

Входная контрольная работа для 1 класса

1. Работать – это значит:

- а) трудиться, выполнять дело, создавать что-либо;
- б) играть;
- в) трудиться и играть;
- г) спать.


2. Технология – это:

- а) знания о технике;
- б) способы и приемы выполнения работы.

3. Соедини стрелками, к кому что относится:



4. Орудия труда (инструменты) отметь галочкой ()





Критерии оценивания:

Максимальное количество баллов: 11 баллов

Достигнут повышенный уровень: 10 - 11 баллов

Достигнут базовый уровень: 6 - 9 баллов

Не достигнут базовый уровень: 0 – 5 баллов

Промежуточная контрольная работа для 1 класса

1. Какой материал используется на уроках технологии. Правильный ответ обведите.
А) Бумага, пластилин, природный материал
Б) Доски, гвозди, кирпичи
В) Железо, отвертки, секатор
2. Как правильно передавать ножницы. Выбери правильный ответ и обведи его.
А) Лезвиями вперед
Б) Кольцами вперед
В) Можно кинуть
3. Без чего нельзя обойтись при работе с пластилином? Обведи правильный ответ.
А) Ножницы, клей
Б) Нитки, иголка
В) Стека, доска для пластилина
4. Что такое оригами? Обведи правильный ответ
А) Искусство складывания фигурок из бумаги
Б) Искусство вырезания фигурок из бумаги
В) Обрывная мозаичная аппликация
5. Что используется при работе с бумагой?
А) Стека
Б) Иголки

В) Ножницы

6. При помощи чего скрепляется бумага? Обведи правильный ответ.

А) Пластилин

Б) Кнопки

В) Клей

7. Обведи объёмные поделки из природного материала красным цветом, аппликацию из листьев – жёлтым, аппликацию из семян – зелёным.




А)


Б)




В)




8. Фигуры, какой формы легче всего вырезать? Обведи правильный ответ



А)



Б)



В)

Критерии оценивания:

Достигнут повышенный уровень: 8-7 баллов

Достигнут базовый уровень: 6 - 5 баллов

Не достигнут базовый уровень: 0 – 4 баллов

Итоговая контрольная работа для 1 класса

1. Умеют резать:

а) карандаш;

б) ножницы;

в) иголка;

г) стека.

2. Умеет намазывать клей:

а) линейка;

б) кисточка;

в) стека.

3. Что такое ткань?

а) материал, созданный человеком;

б) природный материал.

4. Бумага-это:

а) материал;

б) инструмент;

в) приспособление.

5. Выбери инструменты при работе с бумагой:

а) ножницы;

б) игла;

в) линейка;

г) карандаш.

6. Какие свойства бумаги вы знаете?

а) хорошо рвется;

- б)легко гладится;
- в)легко мнется;
- г)хорошо впитывает воду;
- д)влажная бумага становится прочной.

7.Как правильно вести себя во время сбора природных материалов?

- а)не ломать ветки;
- б)не мусорить;
- в)громко разговаривать;
- г)не рвать редкие растения.

8.Если обе половинки детали одинаковые, их называют:

- а)симметричные;
- б)выпуклые;
- в)гофрированные.

9.Пластилин-это:

- а)природный материал;
- б)материал, созданный человеком.

10.На какую сторону бумаги наносят клей?

- а)лицевую;
- б)изнаночную.

11.Изображение, выполненное из отдельных кусочков, -это:

- а)апликация;
- б)мозаика;
- в)оригами.

12.Помогают размечать и измерять:

- а)шаблон;
- б)линейка;

в)фальцовка;

г)трафарет.

13.Старинное японское искусство складывания фигурок из бумаги называется:

а) оригами;

б)регата;

в)флюгер.

14.Для чего нужен подкладной лист?

а) для удобства;

б)чтобы не пачкать стол.

Критерии оценивания:

Итого: 23б.

Высокий уровень-23-21 балл

Выше среднего-20-16 баллов

Средний уровень-15-12 баллов

Низкий уровень- менее 11 баллов

Входная контрольная работа для 2 класса

1. Какой материал используется на уроках технологии. Правильный ответ обведите.

А) Бумага, пластилин, природный материал

Б) Доски, гвозди, кирпичи

В) Железо, отвертки, секатор

2. Как правильно передавать ножницы. Выбери правильный ответ и обведи его.

А) Лезвиями вперед

Б) Кольцами вперед

В) Можно кинуть

3.. Как нужно оставлять ножницы на столе?

- а) с закрытыми лезвиями
- б) с открытыми лезвиями
- в) не имеет значения

4. Пластилин – это:

- а) природный материал
- б) материал, созданный человеком
- в) приспособление

5. Без чего нельзя обойтись при работе с пластилином? Обведи правильный ответ.

- А) Ножницы, клей
- Б) Нитки, иголка
- В) Стека, доска для пластилина

6. Что используется при работе с бумагой?

- А) Стека
- Б) Иголки
- В) Ножницы

7. При помощи чего скрепляется бумага? Обведи правильный ответ.

- А) Пластилин
- Б) Кнопки
- В) Клей

8. Как называется вырезание и наклеивание деталей на основу?

- а) аппликация
- б) оригами
- в) вышивка

9. Укажи цифрами в окошечках порядок выполнения. В каком порядке выполняют аппликацию?

- вырежи
- разметь детали
- приклей

10. Ткань делают из :

- А) жестких волокон
- Б) из мягких волокон.

11. Что такое оригами? Обведи правильный ответ

- А) Искусство складывания фигурок из бумаги

- Б) Искусство вырезания фигурок из бумаги
- В) Обрывная мозаичная аппликация

12. На какую сторону наносят клей?

- А) лицевую
- Б) изнаночную

13. Где нужно хранить иглу?

- А) в пенале
- Б) в игольнице
- В) на столе

14. Умеет намазывать клей:

- А) Линейка
- Б) кисточка
- В) стека

15. Умеет резать:

- А) Карандаш
- Б) Ножницы
- В) Иголка

Критерии оценивания:

- «5» - 15-13 баллов
- «4» - 12-10 балла
- «3» - 9-6 балла
- «2» - 5-0 балла

Промежуточная контрольная работа для 2 класса

Часть А

1. Технология – это:

- а) знания о технике;
- б) последовательность операций по обработке материала для изготовления изделия;
- в) техническая характеристика изделия.

2. Выбери материалы, из которых можно изготовить изделия:

- а) игла;

- б) глина;
 - в) бумага;
 - г) ножницы;
 - д) цветной картон;
 - е) клей.
3. При изготовлении аппликации из цветной бумаги
- а) детали склеиваются;
 - б) детали сшиваются;
 - в) детали сколачиваются гвоздями.
4. При работе за компьютером делай перерыв:
- а) через каждый час;
 - б) через каждые 15 минут;
 - в) через каждые 5 минут.
5. Шаблон – это:
- а) инструмент;
 - б) материал;
 - в) приспособление.
6. Как называется изображение детали или изделия на листе бумаги с обозначением всех необходимых для его изготовления размеров?
- а) технический рисунок;
 - б) эскиз;
 - в) чертёж.
7. Оригами – это...
- а) блюдо японской кухни;
 - б) техника складывания из бумаги;
 - в) японский национальный костюм.
8. Как можно размягчить пластилин?
- а) горячей водой
 - б) разогреть теплом своих рук;
 - в) подождать некоторое время.
9. Выбери инструменты для работы с пластилином:
- а) стеки;
 - б) посуда с водой;
 - в) подкладная доска;
 - г) ножницы.

Часть В

10. Закончи высказывания о материалах и инструментах:
То, из чего изготавливают изделия, - это...

То, чем работают, - это...

11. Узнай и запиши названия материалов по их свойствам:

а) гладкая, тонкая, мнётся, складывается, не тянется, разноцветная - это...

б) плотный, плохо гнётся, не мнётся, не тянется, служит фоном для аппликации – это...

в) разноцветный, при нагревании размягчается, пластичный – это...

12. Подумай, о каком инструменте идёт речь? Напиши ответ _____

- Этот инструмент нужно передавать своему товарищу, держа его за лезвие.
- Во время работы с ним нельзя отвлекаться и размахивать им.
- На столе этот инструмент должен лежать с сомкнутыми лезвиями.

13. Установи правильную последовательность выполнения изделия в технике аппликации:

Разметить детали по шаблону.

Составить композицию.

Вырезать детали.

Наклеить на фон.

14. Напиши пословицу о труде. _____

Критерии оценивания работы

Максимальный 14-13 б. – «5»

Программный 12-8 б. – «4»

Необходимый предметный 7 б. – «3»

Недостаточный менее 7 баллов – «2»

Итоговая контрольная работа для 2 класса

Часть А

1. Допиши недостающее слово.

При изготовлении аппликации из цветной бумаги детали надо

_____ .

2. Подчеркни названия инструментов.

Ножницы, пластилин, стека, бумага, ткань, игла, нитки, клей, глина.

3. Запиши ответ.

Как называется техника складывания из бумаги ? Это _____ .

4. При работе за компьютером делай перерыв:

а) через каждый час;

б) через каждые 15 минут;

в) через каждые 5 минут.

5. Подчеркни, что относится к природным материалам.

Листья, желуди, картон, цветы, бумага, семена, кора, ткань.

6 . Запиши ответ.

Как можно размягчить пластилин? _____

.

7. В каком порядке выполняют аппликацию? Поставь цифры 1,2,3.

- приклей;

- разметь детали;

- вырежи.

8. Запиши инструменты для работы с пластилином:

а)

б)

Часть В

9. Закончи высказывания о материалах и инструментах:

1) То, из чего изготавливают изделия, - это...

2) То, чем работают, - это...

10. Подумай, о каком инструменте идёт речь? Напиши

ответ _____

– Этот инструмент нужно передавать своему товарищу, держа его за лезвие.

– Во время работы с ним нельзя отвлекаться и размахивать им.

– На столе этот инструмент должен лежать с сомкнутыми лезвиями.

Критерии оценивания:

«5» - 12-10 баллов

«4» - 9-7 балла

«3» - 6 балла

«2»-5-0 балла

Входная контрольная работа для 3 класса

1. Как правильно передавать ножницы?

- А - кольцами вперёд В – боком вперёд
Б – острыми концами вперёд Г - как хочешь

2. Укажи инструмент для разметки:

- А - линейка В - иглолка
Б - ножницы Г – отвёртка

3. Какой материал не используется для аппликации?

- А - бумага В - ткань
Б – картон Г – мел

4. Вид народно-прикладного промысла:

- А - кулинария В - овощеводство
Б - вышивка Г – строительство

5. Работать – это значит:

- А - трудиться, выполнять дело, создавать что-либо
Б - играть
В - трудиться и играть
Г – спать

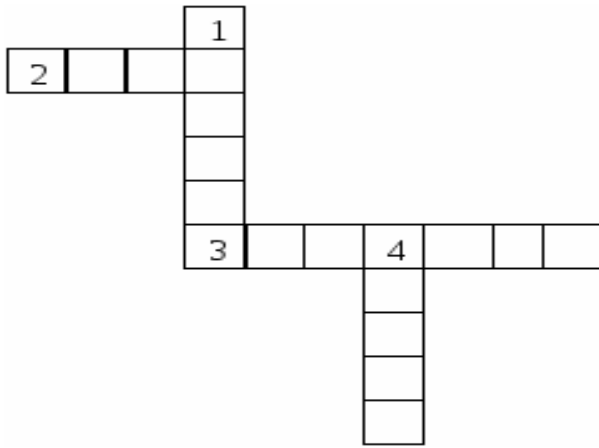
6. Как называется вырезание и наклеивание деталей на основу?

- А - аппликация Б - оригами В – вышивка

7. В каком порядке выполняют аппликацию?

- вырежи разметь детали приклей

8. Разгадайте кроссворд.



Вопросы:

- 1. Плотная бумага.*
- 2. Инструмент для шитья.*
- 3. Инструмент для вырезания из бумаги.*
- 4. Что вдевают в иголку?*

Критерии оценивания:

- «5» - 12-10 баллов
- «4» - 9-7 балла
- «3» - 6 балла
- «2» - 5-0 балла

Промежуточная контрольная работа для 3 класса

1. Из какого материала лучше всего сделать обложку карманной записки?
 - А) из бумаги для аппликаций
 - Б) из фанеры
 - В) из картона
2. Какой из материалов имеет свойства: гибкий, непрозрачный, гладкий.
 - А) писчая бумага
 - Б) пенопласт
 - В) стекло
3. Чертеж – это:

А) условное изображение изделия

Б) эскиз изделия

В) набросок изделия

4. Челнок – это...

А) продольные нити ткани

Б) поперечные нити ткани

В) приспособление для ткачества

5. Как называется линия этого чертежа _____ ?

А) место намазывания клеем

Б) сплошная тонкая линия (вспомогательная линия для выполнения эскизов, набросков, размерная)

В) штрихпунктирная линия с двумя точками (линия сгиба)

6. Ткани растительного происхождения изготавливают из...

А) луговых трав

Б) из льна и хлопка

В) из пуха тополя

7. Выберите из предложенного списка предмет, относящийся к материалам.

А) канцелярский нож

Б) канцелярский клей

В) ножницы

8. Оригами – это...

А) древний способ изготовления бумаги

Б) искусство складывания бумаги

В) Город в Японии

9. Ткань, нитки и пряжа состоят из...

А) волокон

Б) ниток

В) ворсинок

10. Как правильно передавать ножницы?

А) кольцами вперед

Б) кольцами к себе

В) кольцами в сторону

11. Узор – это...

- А) рисунок для вышивки
- Б) вид рукоделия
- В) вязаное изделие, элемент одежды

12. Выберите правильный ответ. Папье-маше – это пластичная масса, полученная из:

- А) размоченной бумаги
- Б) размоченной глины
- В) размоченных материалов

13. Кукольник – это...

- А) театральный художник, мастер по проектированию и изготовлению декораций
- Б) мастер по изготовлению кукол
- В) актер театра кукол, который владеет техникой управления куклы

14. Ингредиенты – это...

- А) наставление о способе приготовления чего-нибудь
- Б) определенная доля, количество чего-нибудь
- В) продукты необходимые для приготовления блюд

15. Какое сооружение не является мостом?

- А) путепровод
- Б) виадук
- В) фонтан

16. Переплетчик - это...

- А) специалист по переплету книг
- Б) твердое, прочное покрытие книги, предназначенное для соединения листов книги и защиты нижнего блока

17. Как называется искусственное сооружение для перехода через реку, овраг или другое препятствие

- А) верфь
- Б) фонтан
- В) мост

18. Выберите правильный ответ. Смазывать детали клеем следует, разложив их на:

- А) клеенке или газете
- Б) подкладном листе
- В) изнаночной стороне картона

19. Определи, какая операция лишняя при изготовлении бутерброда

- А) положить сыр на булку, намазанную маслом
- Б) нарезать булку
- В) варить 10 минут

20. Почему при изготовлении модели фонтан выбран пластилин? Это самое важное для этого изделия свойство пластилина

- А) хорошо мнется
- Б) не пропускает воду
- В) красивые цвета

21. Как называется место постройки и ремонта судов

- А) верфь
- Б) фонтан
- В) океанариум

22. Как называется живописное, графическое или скульптурное украшение, основанное на повторении и чередовании геометрических или природных элементов

- А) орнамент
- Б) шаблон
- В) оригами

23. Выберите правильный ответ. При работе с булавками следует:

- А) класть булавки на стол
- Б) хранить булавки в игольнице
- В) втыкать булавки в одежду

24. Выберите правильный ответ. Шаблон при материале необходимо размещать:

- А) как можно ближе к краю материала
- Б) по центру материала

В) выходящим за края материала

25. Какую нужно выбрать панель инструментов для установки параметров шрифта

А) форматирование

Б) стандартная

В) меню

Критерии оценивания:

Отметка «5» - верно выполнены 96% и более заданий (24-25 балла);

Отметка «4» - верно решены 75%-95% заданий (18-23 балла);

Отметка «3» - верно решены 51%-75% заданий (12-18 балла);

Отметка «2» - менее 50% (менее 12 балла).

Итоговая контрольная работа для 3 класса

Ф.И. учащегося _____ Класс _____

1 вариант

Часть 1

Базовый уровень

1.Какая техника использовалась для создания всех трех работ, изображенных ниже?



А) лепка

Б) аппликация

В) рисование

Г) плетение

Ответ: _____

2.Аппликация бывает по технике выполнения:

- А) обрывная и разрезная
- Б) объемная и плоская
- В) аккуратная и красивая

Ответ: _____

3. Найди из перечисленных способы соединения деталей аппликации из цветной бумаги.

- А) детали склеиваются
- Б) детали сшиваются
- В) детали сколачиваются гвоздями

Ответ: _____


4. Установите правильную последовательность выполнения изделия в технике аппликации и составь план. Запиши в таблицу.

- А) разметить детали по шаблону
- Б) составить композицию
- В) вырезать детали
- Г) наклеить на фон

5. Для выполнения работы вам потребуются материалы и инструменты. Из предложенного списка выберите предметы, относящиеся к инструментам и материалам. Записав их в нужный столбик.

Канцелярский нож, клей, ножницы, ленты, ткань, тесьма, линейка, бархатная бумага.

6. Выбери природные материалы для изготовления изделий.



Ответ: _____

7. Перед вами правила безопасной работы с одним из часто используемых в работе инструментов, назовите его:

- Этот инструмент нужно передавать своему товарищу, держа его за лезвия;
- Во время работы с ним нельзя отвлекаться и размахивать им;
- На столе этот инструмент должен лежать с сомкнутыми лезвиями.

1)



2)



3)



Ответ: _____

8. Какое утверждение верно?

А) бумага во влажном состоянии становится прочнее.

Б) бумага упруга: она возвращается в исходное положение после её сворачивания.

В) бумагу трудно смять: она легко распрямляется после смятия.

Г) бумага жёсткая: нужно приложить большие усилия, чтобы сложить бумажный лист

Ответ: _____

9. Соотнесите материал и изделие из него:

А) Шерсть

1) Сметана

Б) Какао

2) Свитер

В) Нефть

3) Шоколад

Г) Молоко

4) Бензин

10. Главная часть компьютера – это...

А) монитор

Б) системный блок

В) клавиатура

Ответ: _____

11. Сведения, которые люди передают друг другу устно, письменно или с помощью технических средств - это:

А) информация

Б) жесты

В) знания

Г) речь

Ответ: _____

12. Соотнеси вид информации и способ передачи

- А) Рассказ учителя 1) это печатная информация
- Б) Номер телефона в записной книжке 2) это устная информация
- В) Сообщение в журнале или газете 3) это письменная информация

Критерии оценивания:

12-11 баллов – «5»

10-8 баллов – «4»

7-5 баллов – «3»

4-0 баллов – «2»

Входная контрольная работа для 4 класса

1. Какие из перечисленных инструментов опасные?
 - а) линейка б) ножницы в) игла г) стека
2. Аппликация из цветной бумаги.
 - а) детали склеиваются
 - б) детали сшиваются
 - в) детали сколачиваются гвоздями
3. Что можно сделать из соломы?
 - а) накрыть крышу
 - б) сделать метлу
 - в) сделать поделку
4. Швы для вышивания.
 - а) «вперёд иголка»
 - б) «назад иголка»
 - в) « иголка в сторону»
5. Что такое игольница?
 - а) подушечка б) ежика в) кактус
6. Как можно размягчить пластилин?
 - а) разогреть на батарее
 - б) разогреть на солнце
 - в) разогреть теплом своих рук
7. Как правильно передавать ножницы?
 - а) кольцами вперед б) кольцами к себе
8. Установите правильную последовательность выполнения изделия в технике аппликации:
 - а) разметить детали по шаблону
 - б) составить композицию
 - в) вырезать детали г) наклеить на фон
9. Ткани растительного происхождения изготавливают из...
 - а) луговых трав б) хвои лиственницы и ели

в) из льна и хлопка г) из пуха тополя

10. Какие утверждения верны?

а) после работы пересчитай иголки в игольнице

б) чтобы подготовить листья к работе высуши их на подоконнике

в) при выполнении аппликации вырезай детали по одной и сразу их наклеивай.

г) передавай ножницы кольцами вперед

д) работай с пластилином на подкладной доске.

11. Какие материалы и инструменты понадобятся для вышивания?

а) пяльцы б). ткань в) мулине г) иголка

д) швейные булавки е) стека

12. Закончите фразу: инструменты – это...

а) те предметы, вещества, идущие на изготовление чего-либо.

б) орудия для производства каких-нибудь работ.

13. Выберите из предложенного списка инструменты.

а) линейка б) бумага в) ножницы

г) игла д) ткань

14. Какое утверждение верно?

а) Материалы – это линейка, клей, треугольник.

б) Материалы – это бумага, нитки, пластилин.

15. Из чего состоит компьютер?

а) монитор

б) розетка

в) клавиатура

г) наушники

д) системный блок

Критерии оценивания:

«5» - за 13-15 баллов

«4» - за 10 – 12 баллов

«3» - за 8 – 9 баллов

«2» - ниже 8 баллов

Промежуточная контрольная работа для 4 класса

1. Какой материал не является природными?

Выберите один ответ:

- семена растений
- пластилин
- глина

2. Что не относится к инструментам?

Выберите один ответ:

- линейка
- ножницы
- шаблон
- циркуль
- кисть

3. Расставь по порядку номера действий для выращивания цветочной рассады из семян.

1.положить в середину горшка семена.

2.засыпать семена тонким слоем почвы и полить.

3.полить почву водой комнатной температуры .

4.насыпать в цветочный горшок почву .

5.покрыть горшочек прозрачным материалом и поставить в теплое место.

Ответ : _____

4. Выбери, какие материалы и инструменты понадобятся для вышивания.

Выберите один или несколько ответов:

- подкладная доска
- палитра
- иголка
- стека
- ткань
- пяльцы
- кисточки
- мулине

5. Искусство складывания и сгибания бумаги - это...

Выберите один ответ:

- аппликация
- оригами
- мозаика

6. Как нужно располагать шаблоны на бумаге?

Выберите один ответ:

- посередине листа бумаги.
- поближе к краю и друг к другу;
- так, чтобы удобно было вырезать

7. Изонить - техника выполнения рисунка...

Выберите один ответ:

- красками
- нитями
- полосками бумаги

8. Установи соответствия между названиями изделий и материалами из которых они в основном сделаны:

- А) футболка 1) металл
Б) будка для собаки 2) пластмасса
В) корпус автомобиля 3) хлопок
Г) фломастер 4) шерсть
Д) варежки 5) дерево

9. Лицевая сторона бумаги, ткани - это...

Выберите один ответ:

- наружная, верхняя сторона
- обратная, внутренняя сторона

10. Какой инструмент используется при работе с пластилином?

Выберите один ответ:

- стек
- ножницы
- нож

11. Белый керамический материал из глины, полевого шпата и кварца:

Выберите один ответ:

- глина
- пластмасса
- фаянс
- скульптурный пластилин

12. Продолжи пословицу: «Была б лишь охота - наладится любая... »

13. Перед вами правило безопасной работы с одним из часто используемых в работе инструментов:

Этот инструмент нужно передавать своему товарищу, держа его за лезвия; во время работы с ним нельзя отвлекаться и размахивать им; на столе этот инструмент должен лежать с сомкнутыми лезвиями.

Назовите этот инструмент:

14. Образец для контроля или разметки криволинейных контуров изделий из ткани:

Выберите один ответ:

- лекало
- трафарет
- макет
- мерка

15. Рельефное изображение, выбитое на металлическом изделии:

Выберите один ответ:

- аппликация
- изразец
- мозаика
- чеканка

16. Найдите ошибку в цепочке ответов. Глазурь -

Выберите один ответ:

- придаёт изделию эффектный вид
- делает изделие не пропускающим воду
- стекловидное покрытие на керамических изделиях
- одна из разновидностей керамики

Критерии оценивания:

«5» - 16-14 баллов

«4» - 13-9 балла

«3» - 8-6 балла

«2»-5-0 балла

Итоговая контрольная работа для 4 класса

Ф.И.

учащегося _____

4 класс дата _____ Вариант 1

А.1. Устройство предназначено для ввода информации:

Выберите один из 4 вариантов ответа:

- 1) монитор 3) принтер
- 2) процессор 4) клавиатура

А.2. Персональный компьютер не будет функционировать, если отключить:

- 1) оперативную память
- 2) мышь
- 3) принтер
- 4) дисковод

А.3 Что можно отнести к декоративному убранству?

1. ковры, светильники, шторы
2. необходимые в повседневной жизни вещи
3. декоративные элементы, украшающие быт человека
4. всё выше перечисленное

А.4. Ткани растительного происхождения изготавливают из...

- 1) луговых трав 2) хвои лиственницы и ели
- 3) из льна и хлопка 4) из пуха тополя

А.5. Оригами – это ...

- 1) блюдо японской кухни;
- 2) техника складывания из бумаги;
- 3) японский национальный костюм.
- 4) вышивание

А6 Как можно размягчить пластилин?

1. разогреть на батарее
2. разогреть на солнце
3. разогреть теплом своих рук
4. горячей водой

А.7 Какое изображение нельзя назвать архитектурой?



А8. Правила безопасности труда при работе режущими и колющими инструментами:

1. ножницы подаются кольцами вперед;
2. ножницы подаются острыми концами;
3. нужно иметь свои ножницы
4. всё выше перечисленное

А9. . Аппликация из цветной бумаги:

1. детали склеиваются;
2. детали сшиваются;
3. детали сколачиваются гвоздями.
- 4) складывание бумаги разных форм

А.10. Технология – это:

1. знания о технике;
2. последовательность операций по обработке материала для изготовления изделия;
3. техническая характеристика изделия.
4. рисование картин

Часть В

В.1 Установите правильную последовательность выполнения изделия в технике аппликации и составьте план.

- а) разметить детали по шаблону
- б) составить композицию
- в) вырезать детали
- г) наклеить на фон

Ответ: 1) _____ 2) _____ 3) _____ 4) _____

В.2. Соедини линиями части персонального компьютера с их назначением:


Монитор Управление

Клавиатура Мозг

Мышь Экран

Системный блок Набор текста

В.3. Разгадай кроссворд.



С1. Укажи, какой из перечисленных материалов имеет все названные свойства: хрупкий, прозрачный, гладкий.

- 1) писчая бумага 3) стекло
- 2) пластилин 4) поролон

Ф.И.

учащегося _____

4 класс дата _____

Вариант 2

А1. Как можно размягчить пластилин?

1. разогреть на батарее
2. разогреть на солнце
3. разогреть теплом своих рук
4. горячей водой

А.2 Какое изображение нельзя назвать архитектурой?



А3 Правила безопасности труда при работе режущими и колющими инструментами:

1. ножницы подают кольцами вперед;
2. ножницы подают острыми концами;
3. нужно иметь свои ножницы
4. всё выше перечисленное

А4. . Аппликация из цветной бумаги:

1. детали склеиваются;
2. детали сшиваются;
3. детали сколачиваются гвоздями.
4. складывание бумаги разных форм

А.5. Технология – это:

1. знания о технике;
2. последовательность операций по обработке материала для изготовления изделия;
3. техническая характеристика изделия.
4. рисование картин

А.6. Устройство предназначено для ввода информации:

Выберите один из 4 вариантов ответа:

- 1) монитор 3) принтер
- 2) процессор 4) клавиатура

А.7. Персональный компьютер не будет функционировать, если отключить:

- 1) оперативную память
- 2) мышь 3) принтер 4) дисковод

А.8 Что можно отнести к декоративному убранству?

1. ковры, светильники, шторы
2. необходимые в повседневной жизни вещи
3. декоративные элементы, украшающие быт человека
4. всё выше перечисленное

А.9. Ткани растительного происхождения изготавливают из...

- 1) луговых трав 2) хвои лиственницы и ели
- 3) из льна и хлопка 4) из пуха тополя

А.10. Оригами – это ...

- 1) блюдо японской кухни;
- 2) техника складывания из бумаги;
- 3) японский национальный костюм.
- 4) вышивание

Часть В

В.1 Установите правильную последовательность выполнения изделия в технике аппликации и составь план.

- а) разметить детали по шаблону
- б) составить композицию в) _вырезать детали г) наклеить на фон

Ответ: 1)_____ 2)_____ 3)_____ 4)_____

В.2. Соедини линиями части персонального компьютера с их назначением:

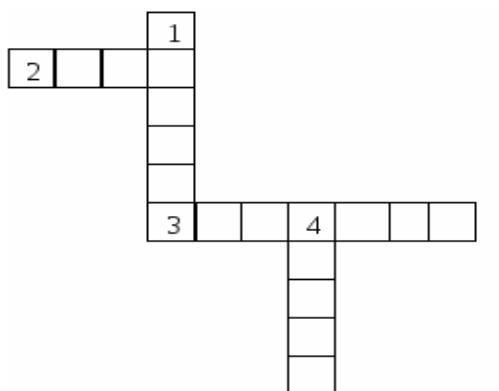
Монитор Управление

Клавиатура Мозг

Мышь Экран

Системный блок Набор текста

В.3. Разгадай кроссворд.



Критерии оценивания:

«5» - 14-12 баллов

«4» - 11-9 балла

«3» - 8-6 балла

«2»-5-0 балла